

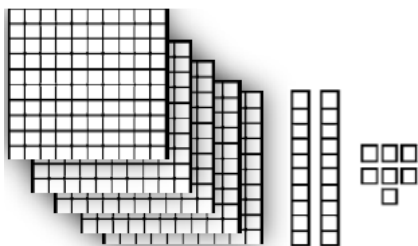


اداره کل آموزش و پرورش استان اردبیل
 اداره آموزش و پرورش منطقه انگوت
 آموزشگاه غیرانتفاعی مهدوی (دوره ابتدایی)

امضاء		زمان آزمون ۹۰ دقیقه	مشخصات آزمون	مشخصات دانش آموز				
		نوبت: اول	درس: ریاضی	نام و نام خانوادگی:				
		تاریخ: / / ۱۴۰۱	نام آموزگار: فاطمه کریمی	کلاس: پایه دوم ابتدایی				
بارم	نمره با حروف	نمره با عدد	ردیف					
			<p>۱</p> <p>عددهای دو رقمی بنویسید که یکان آن ها ۲ و ۴ و دهگان آن ها ۵ و ۸ باشد.</p> <p style="text-align: center;"> <input type="text"/> <input type="text"/> <input type="text"/> <input type="text"/> </p>					
			<p>۲</p> <p>جاهای خالی را با توجه به الگوی آن ها پر کنید.</p> <p style="text-align: center;"> </p> <p style="text-align: center;"> </p> <p style="text-align: center;"> <input type="text"/> ۵۵ ⇒ <input type="text"/> ۵۸ ⇒ <input type="text"/> ۶۰ ⇒ <input type="text"/> ⇒ <input type="text"/> ⇒ <input type="text"/> ⇒ <input type="text"/> </p>					
			<p>۳</p> <p>الگوی زیر را با کشیدن عقربه نشان دهید.</p> <p style="text-align: center;"> </p>					
			<p>۴</p> <p>جمع و تفریق های زیر را با استفاده از روش گسترده نویسی انجام دهید.</p> <table style="width: 100%; text-align: center;"> <tr> <td>$\begin{array}{r} ۴۶ \\ - ۱۶ \\ \hline \\ \hline \\ \hline \end{array}$</td> <td>$\begin{array}{r} ۲۴ \\ + ۲۴ \\ \hline \\ \hline \\ \hline \end{array}$</td> <td>$\begin{array}{r} ۶۷ \\ - ۳۰ \\ \hline \\ \hline \\ \hline \end{array}$</td> <td>$\begin{array}{r} ۲۰ \\ + ۲۹ \\ \hline \\ \hline \\ \hline \end{array}$</td> </tr> </table>		$\begin{array}{r} ۴۶ \\ - ۱۶ \\ \hline \\ \hline \\ \hline \end{array}$	$\begin{array}{r} ۲۴ \\ + ۲۴ \\ \hline \\ \hline \\ \hline \end{array}$	$\begin{array}{r} ۶۷ \\ - ۳۰ \\ \hline \\ \hline \\ \hline \end{array}$	$\begin{array}{r} ۲۰ \\ + ۲۹ \\ \hline \\ \hline \\ \hline \end{array}$
$\begin{array}{r} ۴۶ \\ - ۱۶ \\ \hline \\ \hline \\ \hline \end{array}$	$\begin{array}{r} ۲۴ \\ + ۲۴ \\ \hline \\ \hline \\ \hline \end{array}$	$\begin{array}{r} ۶۷ \\ - ۳۰ \\ \hline \\ \hline \\ \hline \end{array}$	$\begin{array}{r} ۲۰ \\ + ۲۹ \\ \hline \\ \hline \\ \hline \end{array}$					

عدد مربوط به هر شکل را به عدد و حروف بنویسید.

۵



یکان	دهگان	صدگان



یکان	دهگان	صدگان



یکان	دهگان	صدگان

به عدد یا حروف بنویسید.

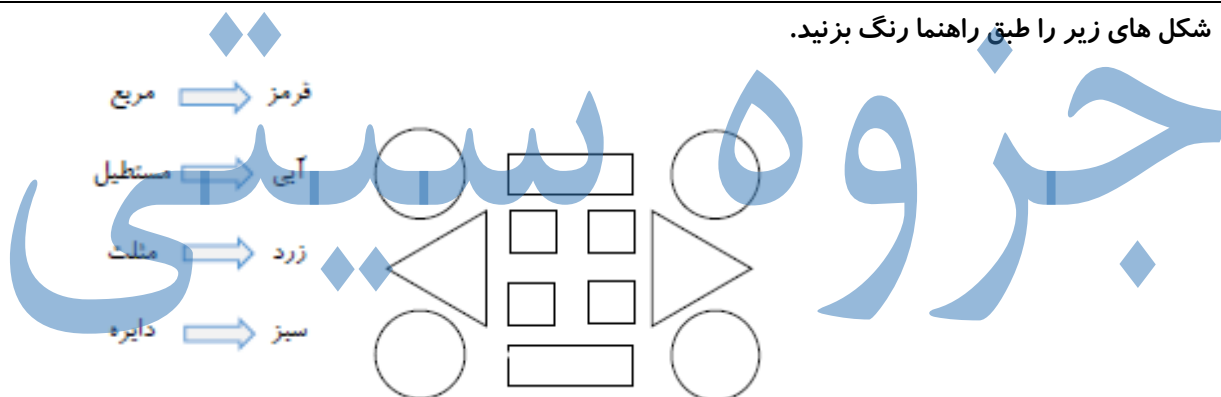
۶

دویست و دوازده

۵۴۶

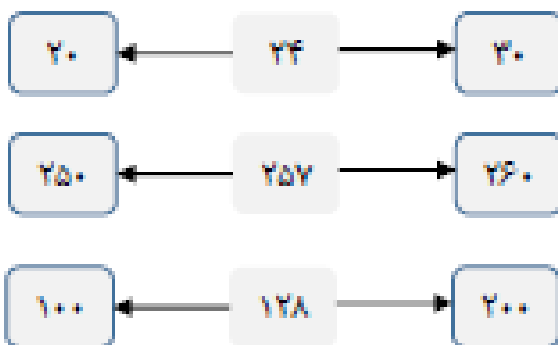
شکل های زیر را طبق راهنما رنگ بزنید.

۷




هر کدام از اعداد داده شده به کدامیک نزدیک تر است؟ داخل آن را رنگ بزنید.

۸



تفاوت و شباهت های شکل های زیر را بنویسید.

۹



تفاوت ها:

شباهت ها: